




فرض كتابي عدد 1



التمرين الأول :

(1) بين ثلاثة أوجه للتطور الحاصل بين عصارة يدوية و عصارة كهربائية :



.....

.....

التمرين الثاني :

أتمم الجدول التالي بما يناسب :

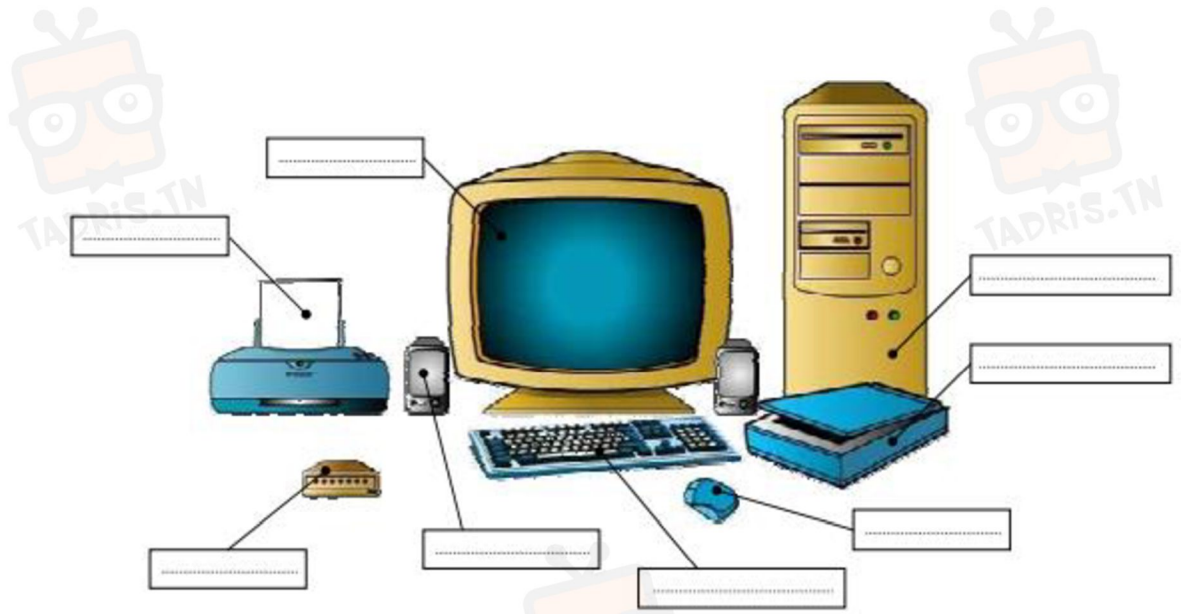
| مجال الفضاء | مجال | مجال الرفاهة المنزلية | مجال التطور التكنولوجي |
|--------------------|------------|-----------------------|-------------------------------------|
| | | | ثلاثة مظاهر دالة على المجال المذكور |
| | بيوت مكيفة | | |
| هوائي بث و استقبال | | | |

التمرين الثالث :

أذكر أسماء مكونات الحاسوب التالية:



في دارك... إتهنح علمي قرابت إصغارك



التمرين الرابع :

ضع علامة x في المكان المناسب:

| عناصر ادخال المعلومات | عناصر نشر المعلومات | |
|-----------------------|---------------------|-----------------------|
| | | المودام |
| | | زر التشغيل |
| | | الشاشة |
| | | الفأرة |
| | | لوحة الملامس |
| | | الطابعة |
| | | مضخم الصوت |
| | | قارئ الأقراص الليزرية |

التمرين الخامس :

(1) بكم من مرحلة تمركل المنتجات في دورتها الحياتية ؟

.....



في دارك... إتهنح علمو قرابتة إصغارك

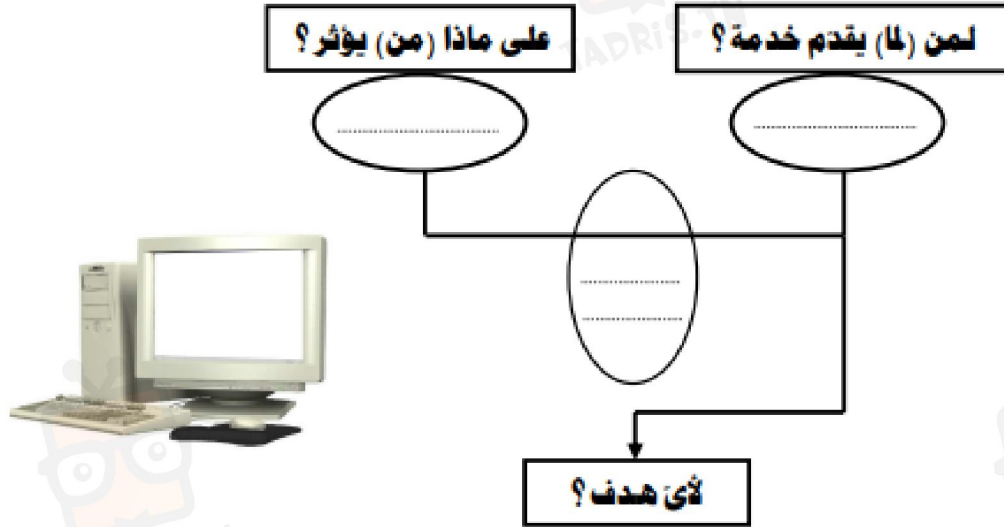


2) أكمل الجدول التالي الخاص بمراحل دورة حياة المنتج :

| | |
|---------------|--------|
| التصنيع | A.... |
| | A4 |
| | A7 |
| | A10 |
| المصادقة عليه | A..... |



التمرين السادس : أعبر عن الحاجة للحاسوب :



في دارك... إتهنوخ علمو قرابتة إصغارك

